

Une énigme par jour : CP

Enigme 1 – Hanjie

Tu dois colorier certaines cases de ce tableau. Les nombres situés au-dessus de chaque colonne et devant chaque ligne te disent chaque fois combien.

	0	3	1	2
1				
2				
0				
3				

Enigme 2 – Le combat contre le minotaure


Trouve 7 différences entre les deux images. Entoure-les.



Une énigme par jour : CP

Enigme 3 – Ça bosse !

Dans un troupeau composé de chameaux (2 bosses) et de dromadaires (1 bosse), on compte 12 têtes et 20 bosses. Combien y a-t-il de dromadaires ?



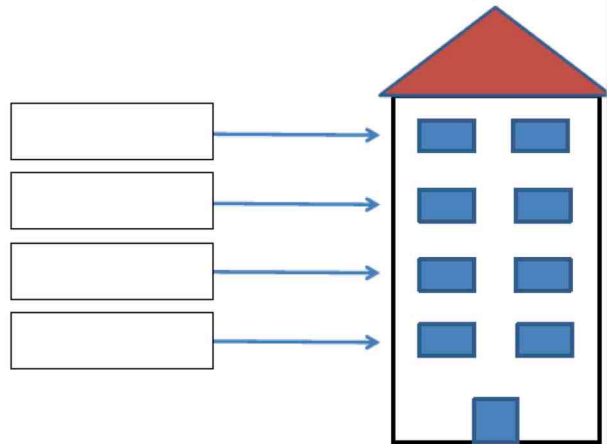
chameau



dromadaire

Enigme 4 – Sous le même toit

Sami habite au-dessus de Marie mais il n'est pas au deuxième étage. William n'habite pas en dessous d'une fille. Paul habite au dernier étage.



Enigme 5 – Les bestioles

Chacune de ces « bestioles » représente un nombre différent (toujours le même). Essayez de découvrir lequel.

$$\text{beetle} + \text{ladybug} + \text{bee} + \text{ladybug} + \text{snail} = 12$$

$$\text{snail} + \text{snail} + \text{beetle} + \text{bee} + \text{ladybug} = 12$$

$$\text{ladybug} + \text{beetle} + \text{ladybug} + \text{ladybug} + \text{ladybug} = 12$$

$$\text{bee} + \text{spider} + \text{snail} + \text{bee} + \text{spider} = 17$$

$$\text{ladybug} + \text{ladybug} + \text{ladybug} + \text{ladybug} + \text{ladybug} = 10$$

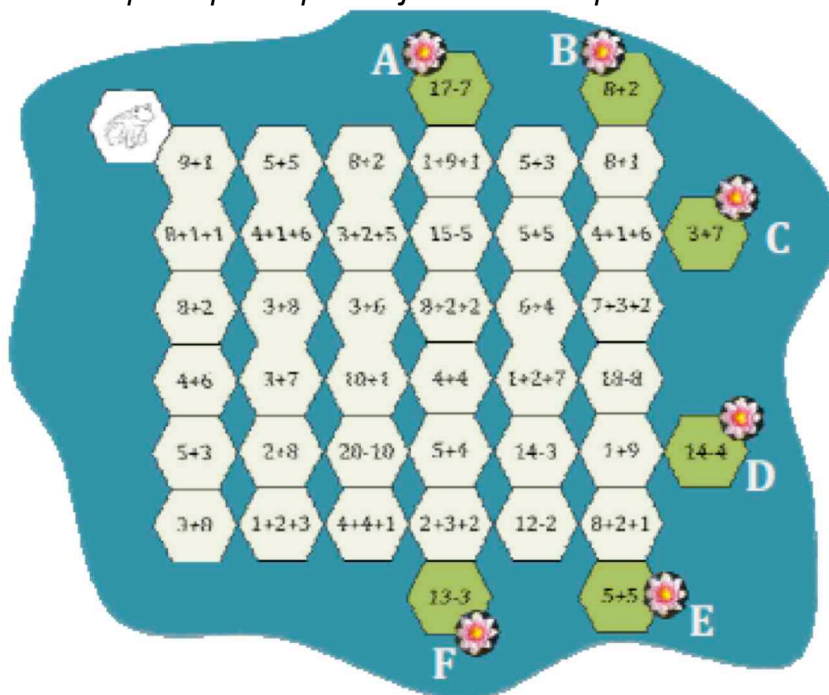


Une énigme par jour : CP

Enigme 6 – La grenouille et les nénuphars


Dixie la grenouille veut rejoindre un beau nénuphar et sa fleur. Pour se déplacer elle ne peut sauter que sur des nénuphars d'une valeur égale à 10. Elle n'effectue des sauts qu'entre des nénuphars qui se touchent.

Quelle est la fleur du nénuphar qu'elle peut rejoindre ? Indique la lettre.



Enigme 7 – Les Dominos

Sami a posé des dominos sur la table.



Il compte tous les points du haut. Il trouve 15.

Il compte tous les points du bas. Il trouve 17.

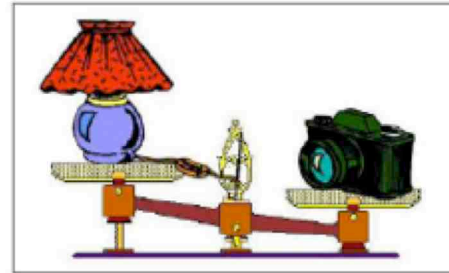
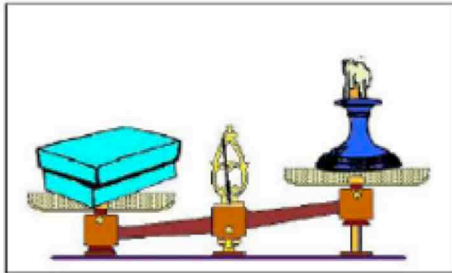
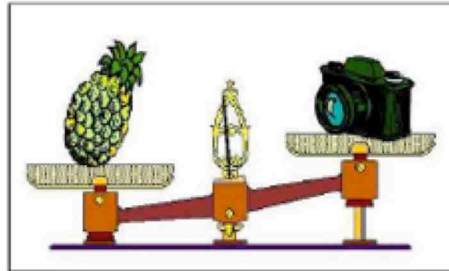
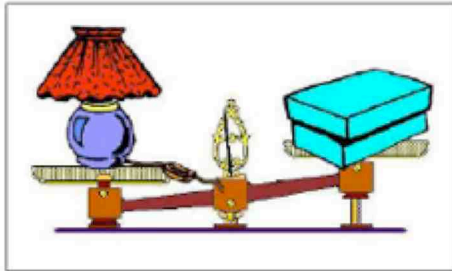
Il veut que les deux rangées fassent 16 points chacune.

Comment doit il faire ? Il veut bouger le moins de dominos possible.

Une énigme par jour : CP

Enigme 8 – Léger comme une plume

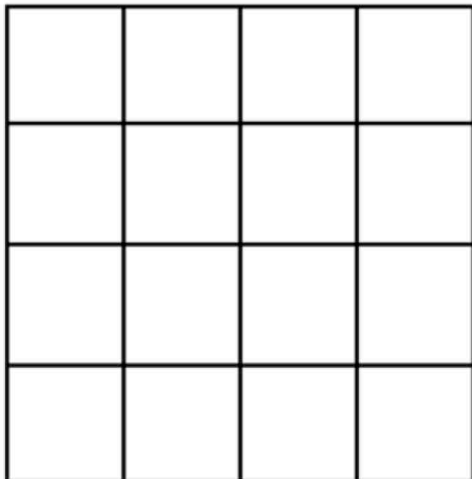
Les enfants ont pesé des objets avec une balance à plateaux :
Ils ont pris des photos de leurs expériences.



Range les objets du plus léger au plus lourd.

Enigme 9 – Les carrés cachés

Combien voyez-vous de carrés ?



Enigme 10 – Sous le même toit

Jérémie n'aime pas toujours s'habiller de la même façon. Il possède :

- Une casquette bleue et une casquette rouge
 - Une chemise jaune et une chemise verte
 - Un pantalon blanc et un pantalon noir
- Combien de tenues Jérémie peut-il faire ?

