



PROBLÈME A

Reproduire les figures ci-contre :



Les enclos des moutons CE1**4 points****PROBLÈME B**

La nuit approche.


Il faut protéger nos moutons du loup qui rôde, en construisant des enclos avec des barrières identiques.

Les enclos doivent être fermés, mais, par chance, le loup est vieux et ne peut plus sauter par dessus les barrières. En revanche, les moutons sont capricieux, ils passent leur temps à se battre. Il faut donc les séparer : chaque mouton dans son enclos bien fermé.

1. On n'a que 8 barrières. Peut-on protéger 2 moutons ?
2. Et si l'on n'a que 7 barrières ?
3. Et avec 6 barrières, les moutons seront-ils tous sauvés ?
4. Et avec 5 barrières ?
5. Il n'y a plus que 4 barrières. Les moutons seront-ils dévorés ?

PROBLÈME C

En utilisant toutes les pièces d'un Tangram reproduis le modèle.



Sudoku CE1

3 points

PROBLÈME D

Complète la grille

Chaque nombre se trouve une seule fois dans la même ligne, colonne ou région.

1	2		3		
	6	3		4	
					4
3		2		5	1
	1				

La ferme CE1

4 points

PROBLÈME E

Un fermier a des poules et des lapins.

En regardant tous les animaux, il voit 5 têtes et 18 pattes.

➤ Combien le fermier a-t-il de lapins et de poules ?

Écris ou représente ta procédure pour trouver le résultat.